



კლინიკური შემთხვევა - Z  
მრუდების შეფასება 4-5  
წლის ასაკში

## გოგონა ნანა 4 წლის და 6 თვის

დედამ პირველადი ჯანდაცვის ცენტრში მოიყვანა გოგონა ნანა, რომელიც ამჟამად 4 წლის და 6 თვისაა. გოგონას ჭირდება ჯანმრთელობის ცნობა საბავშვო ბაღში წასასვლელად.

ნანას წონა 22 კგ-ია, ხოლო სიმაღლე 106სმ.

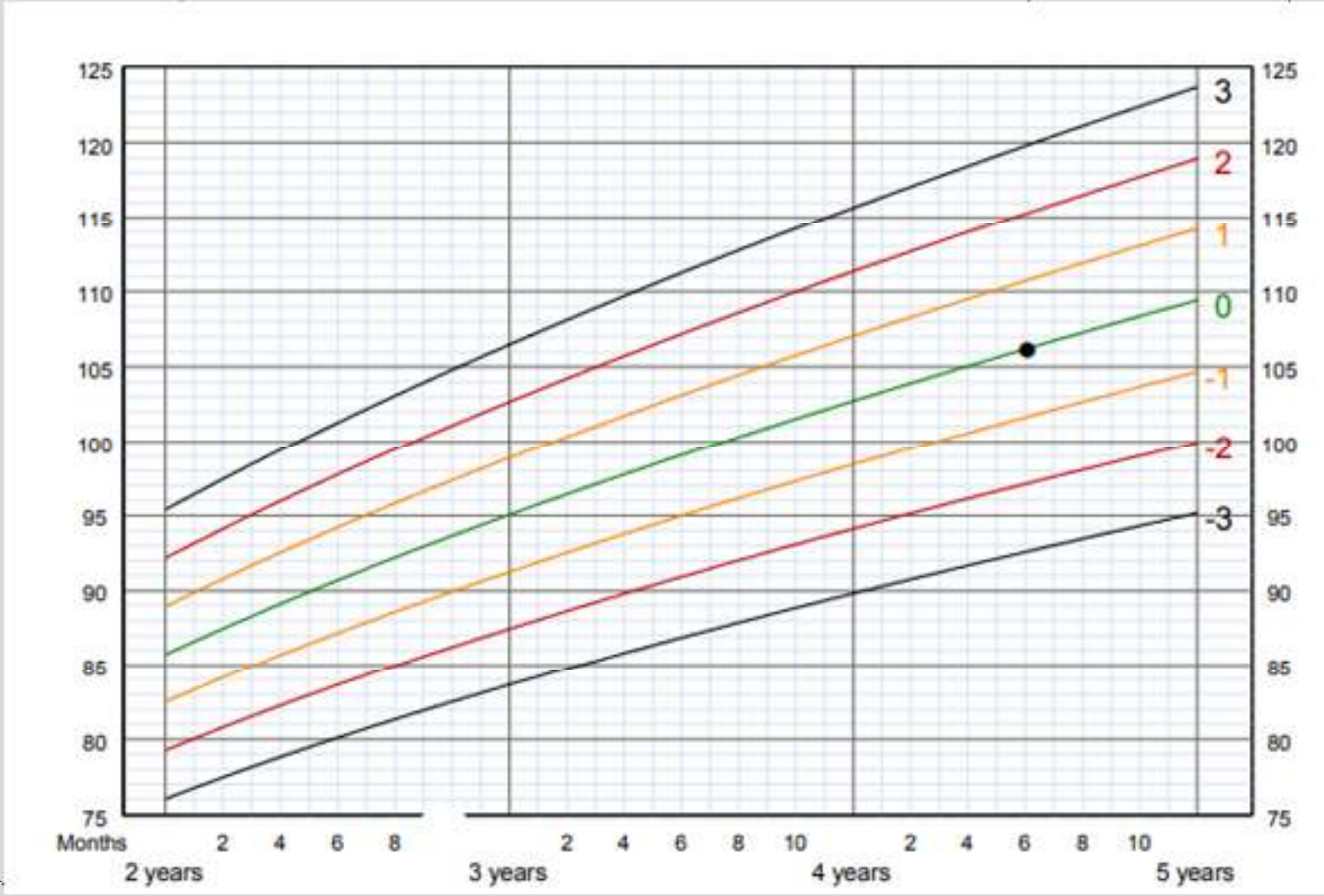
მისი სმი=19.6კგ/მ<sup>2</sup>.

შეაფასეთ ნანას ზრდის მრუდები და უპასუხეთ შემდეგ კითხვებს:

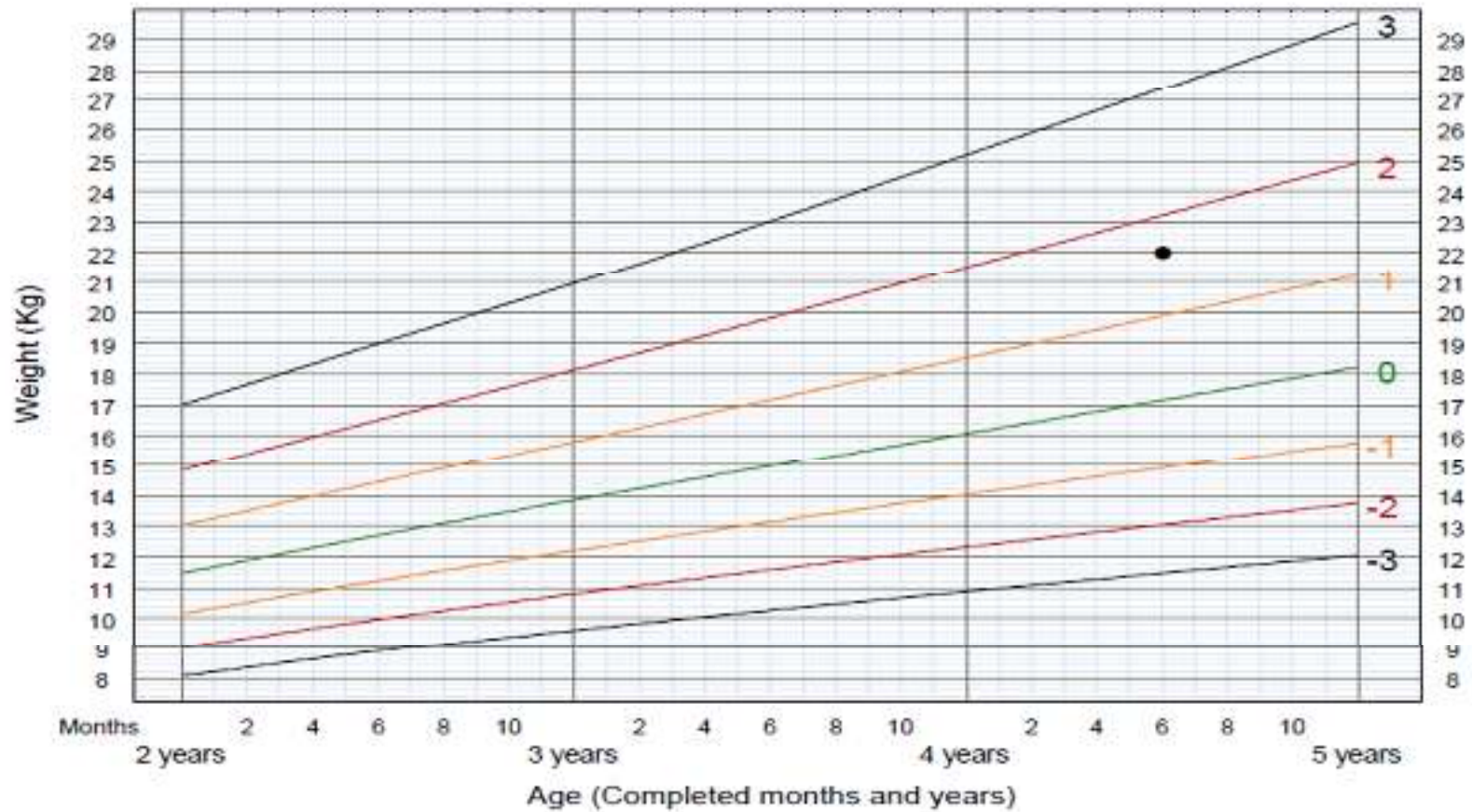
1. როგორია ნანას სიმაღლე მისი ასაკის სხვა გოგონების სიმაღლესთან შედარებით?
2. რომელ z-ქულოვან დიაგრამებს შორის არის განთავსებული ნანას წონა-ასაკის მაჩვენებელი? ნანას სხეულის წონა მისი ასაკის საშუალო მაჩვენებელზე მეტია თუ ნაკლები?
3. აღწერეთ ნანას წონა-სიმაღლის მაჩვენებელი z-ქულების მეშვეობით
4. აღწერეთ ნანას სმი-ასაკის მაჩვენებელი z-ქულების მეშვეობით

ამ ერთი ვიზიტის დროს ზრდის მრუდებზე დატანილი მაჩვენებლებს მიხედვით აქვს თუ არა ნანას ზრდასთან დაკავშირებული რაიმე პრობლემა ან ამ პრობლემის რისკი? თუ, დიახ, აღწერეთ ეს პრობლემა.

# სიმაღლე-ასაკი - გოგონები 2-5 წელი Z-ქულები

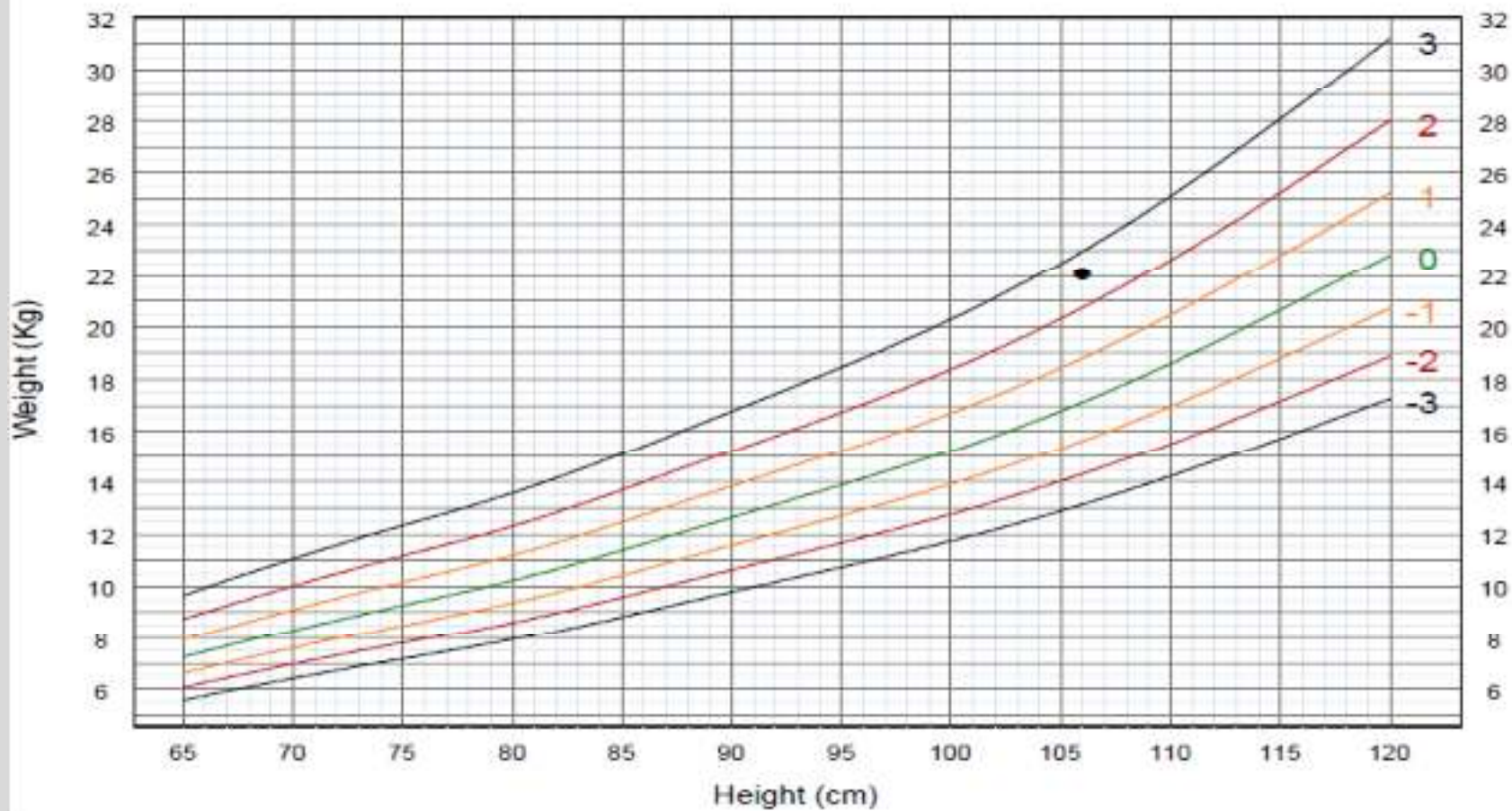


# წონა-ასაკი - გოგონები 2-5 წელი Z-ქულები





# წონა-სიმაღლე - გოგონები 2-5 წელი Z-ქულები



## სმი-ასაკი - გოგონები 2-5 წელი Z-ქულები

